

### Afrikaans

Lees	Self *Dis die belangrikste van alles!
Klanke	Bl. 11 Samestellings tot by blomtuin. Wo en Do die res.
Sigwoorde	Bl. 2 week 8
Taal	Byvoeglike naamwoorde (agter in klankeboek)
Skrif	Onthou asb. om te oefen.

### Engels

Read	Pg. 52 (dassie) Wo en Do res van bladsy
Sounds	Pg. 10 ai (3x) Wo en Do at silent e (3x)
Sight words	Pg. 3 (161-170) skryf (1x)

### Wiskunde

Tel	Tel in 5e vanaf enige getal tot 500 en terug
Hoofrekene	Oefen elke dag hoofrekene en tafels asb.

### Departementele boeke - Werk vir die week.

Afrikaans	Bl. 120-123
Engels	Bl. 68-71
Wiskunde	Bl. 120-121
LV	Bl. 54-55

NB; 1) Lewensiklus plakkaat – Neem af en stuur Maandag 18 Mei

In samewerking met English Oral

2) English Oral – Stuur video per whatsapp – Maandag 25 Mei

1. Ons doen Wiskunde vanaf 08:00 – 09:30. Hoe lank het ons Wiskunde gedoen?
2. Ma gaan winkel toe. Sy ry 10:30 en kom 3 en 'n halwe ure later by die huis. Hoe laat kom sy by die huis?
3. Oupa en Ouma kom vir ons kuier. Hulle ry 06:30 by hulle huis, hulle stop 11:45 by ons huis. Hoe lank het Oupa en Ouma gery?

1

Alfabetiese volgorde

Skryf elke groep woorde alfabeties langsaan

wens \_\_\_\_\_

skip \_\_\_\_\_

kind \_\_\_\_\_

skepe \_\_\_\_\_

lees \_\_\_\_\_

2.

boekrak \_\_\_\_\_

natuurlik \_\_\_\_\_

boomstam \_\_\_\_\_

rivierwal \_\_\_\_\_

stompe \_\_\_\_\_

### Verdubbel en halveer 3-syfer getalle in stappe

- Stap 1: Breek die getalle af in (H + T + E)
- Stap 2: Verdubbel/Halveer (H + T + E)
- Stap 3: Tel H + T + E bymekaar



$$\begin{aligned} &\text{Verdubbel } 124 \\ &\rightarrow (100 + 20 + 4) \\ &\rightarrow 200 + 40 + 8 \\ &= 248 \end{aligned}$$

$$\begin{aligned} &\text{Halveer } 124 \\ &\rightarrow (100 + 20 + 4) \\ &\rightarrow 50 + 10 + 2 \\ &= 62 \end{aligned}$$

<p>Verdubbel 143</p> <p>.....</p> <p>.....</p> <p>.....</p>	<p>Halveer 164</p> <p>.....</p> <p>.....</p> <p>.....</p>
<p>Verdubbel 152</p> <p>.....</p> <p>.....</p> <p>.....</p>	<p>Halveer 186</p> <p>.....</p> <p>.....</p> <p>.....</p>

4. Konsep: Kleingeld

<u>Betaal met</u>	<u>Koop vir</u>	<u>Kleingeld</u>
50c	30c	
R10,00	R5,80	
R15,00	R9,15	
R20,00	R11,20	
R50,00	R31,75	
R100,00	R84,35	
R1,00	R0,95	

Konsep: Tyd

Hoeveel maande in 'n jaar? \_\_\_\_\_





Hoeveel dae is in 'n week? \_\_\_\_\_

Hoeveel ure is in 'n dag? \_\_\_\_\_





Hoeveel minute in 'n uur? \_\_\_\_\_

Hoeveel sekondes in 'n minuut? \_\_\_\_\_

Teken die wysers in

 08:00	 01:30	 07:00	 03:30
---	---	--	---

Skryf die volgende horlosies se digitale tye

 vm: _____	 vm: _____	 vm: _____	 vm: _____
--	--	---	--